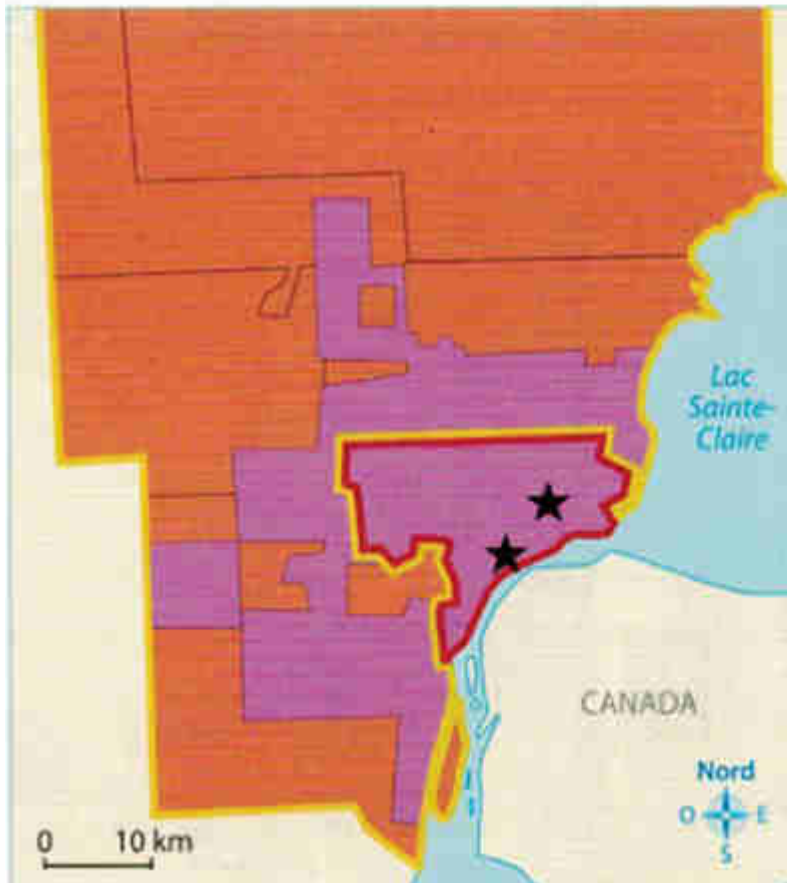


* Quelles sont les raisons de la mise à l'écart de Detroit des réseaux de la mondialisation ?






ACTIVITE : Réaliser un schéma bilan.

1. Compléter la légende : Pour les figurés déjà présents, compléter en choisissant parmi les légendes suivantes : « Le centre de Detroit », « Les périphéries de Detroit », « Baisse de la population », « Augmentation de la population », « Site industriel en crise ».
2. Trouver les figurés manquant à l'aide du « point méthode ».
3. Recopier les figurés de la légende sur le croquis en respectant les couleurs.

TITRE : Détroit, centres et périphéries d'une métropole à l'écart de la mondialisation.



1. Une ville aux paysages reflétant son déclin












-  _____
-  _____
-  _____
-  _____
-  _____

2. Une ville à l'écart des grands réseaux de la mondialisation

- _____ Fuite des capitaux et des hommes
- _____ Centre des affaires

Point méthode

Les figurés à utiliser pour un croquis de géographie.

Figurés ponctuels	Figurés de surface
<p>Une forme géométrique :</p> <ul style="list-style-type: none"> - une ville :  - un port :  - un pouvoir :  (exemple : pouvoir financier) - un aéroport :  	<p>des plages de couleurs :</p> <ul style="list-style-type: none"> - une zone urbanisée :  - des champs : 
Figurés linéaires	
<p>un axe :</p> <ul style="list-style-type: none"> - routier ou maritime :  - ferroviaire :  <p>un fleuve : </p> <p>une frontière : </p> <p>une relation, un échange (flux de marchandises, déplacements de populations...) : </p>	