

Activité : les Etats-Unis, un territoire transformé par la mondialisation

Consignes :

Pour réussir cette activité, respecte bien les consignes.

Tu auras aussi besoin de ton livre et de ton cahier.

Au fur et à mesure du déroulement du diaporama :

- recopie les titres et la problématique qui apparaissent sur chaque diapo.
- dans chaque partie correspondante(A, B et C), réponds aux questions sur ton cahier sans les recopier !
- après chaque série de questions, vérifie tes réponses avec la correction sur le bureau du prof. Corrige sur ton cahier si nécessaire.
- Écris ensuite sur ton cahier la trace écrite qui apparait à chaque fin de partie.

II) Les Etats-Unis: un territoire forgé par la mondialisation.

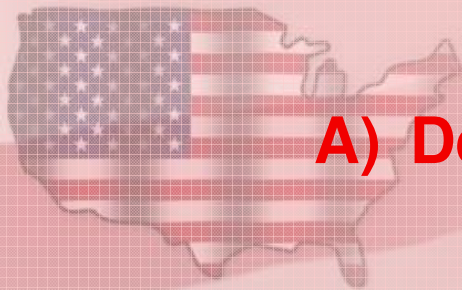
Quelles sont les conséquences de cette superpuissance sur l'organisation du territoire américain ?

Etude de cas : la Californie.

Pour observer les conséquences de la mondialisation sur le territoire américain, il est possible de travailler à partir d'un exemple: l'état de Californie (ne pas recopier ce passage !).

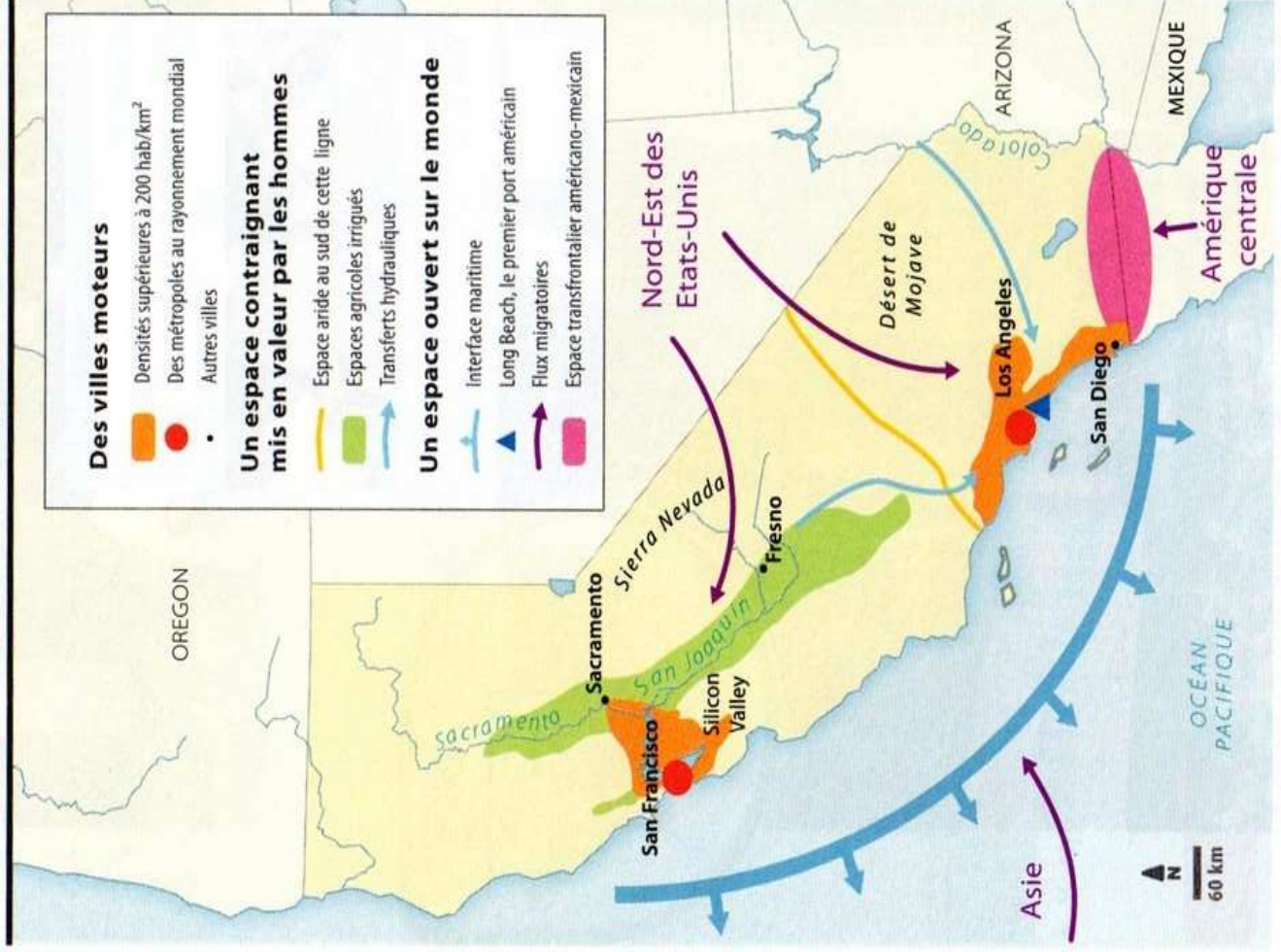
Réponds à cette question sur ton cahier :

Où est située la Californie ? (carte 1 p.318)



A) Des villes au cœur de la puissance américaine.

L'organisation du territoire californien



Des villes moteurs
 Densités supérieures à 200 hab/km²
 Des métropoles au rayonnement mondial
 Autres villes

Un espace contraignant mis en valeur par les hommes
 Espace aride au sud de cette ligne
 Espaces agricoles irrigués
 Transferts hydrauliques

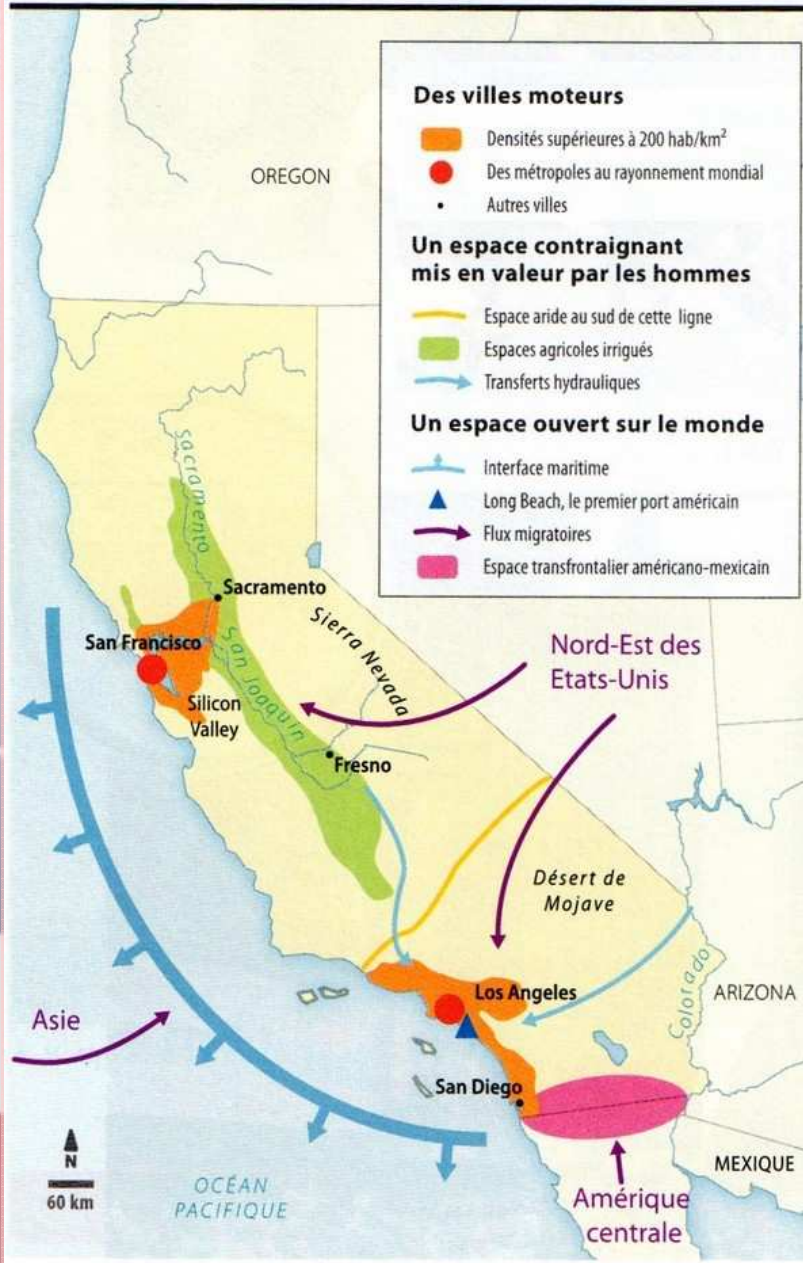
Un espace ouvert sur le monde
 Interface maritime
 Long Beach, le premier port américain
 Flux migratoires
 Espace transfrontalier américano-mexicain

Des villes moteurs
 Densités supérieures à 200 hab/km²
 Des métropoles au rayonnement mondial
 Autres villes

Un espace contraignant mis en valeur par les hommes
 Espace aride au sud de cette ligne
 Espaces agricoles irrigués
 Transferts hydrauliques




Un espace ouvert sur le monde
 Interface maritime
 Long Beach, le premier port américain
 Flux migratoires
 Espace transfrontalier américano-mexicain

L'organisation du territoire californien



Clique sur la légende pour revenir à la carte de départ

Des villes moteurs

-  Densités supérieures à 200 hab/km²
-  Des métropoles au rayonnement mondial
-  Autres villes

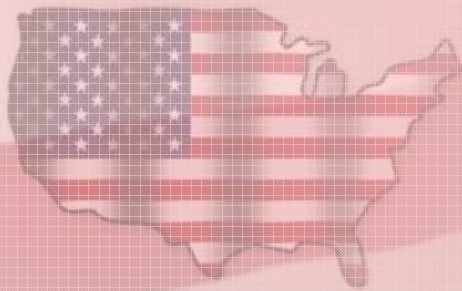
Q1 : Quelles sont les 2 principales villes de Californie ? Où se situent-elles ?

Q2 : Qu'est ce qui explique le rayonnement mondial de ces 2 villes (doc 2 et 5)

Q3 : Que peut-on dire de la densité de population autour de ces villes ? Comment pourrait-on expliquer ce phénomène ?



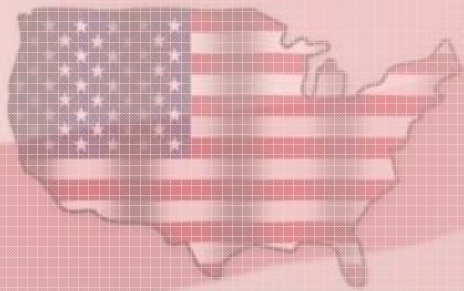
Le siège social de Microsoft est situé dans la Silicon Valley parmi de nombreuses autres entreprises de haute technologie (Yahoo, Google...) mondialement connues.



[Clique sur l'image pour revenir à la carte](#)



Les studios Universal d'Hollywood, lieu de tournage de nombreux films à succès dans le monde.



[Clique sur l'image pour revenir à la carte](#)

Généralisons: Quel rôle jouent les villes américaines ? (ne pas répondre !)



Les métropoles américaines carte p.312

Hollywood (Los Angeles)



La maison blanche (Washington)



Le centre des affaires (CBD) de Manhattan.



Le quartier de Times Square à New-York

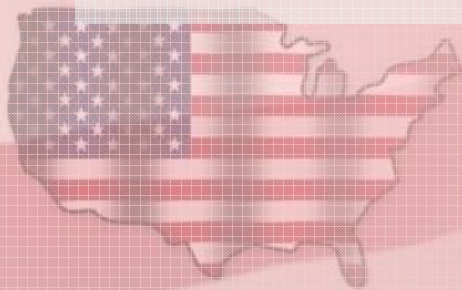


Trace écrites du A) à recopier

Aux Etats-Unis, les villes concentrent la population et les activités: c'est **la métropolisation**.

Des grandes villes comme Los Angeles, San Francisco, New-York, Washington, ou Chicago sont des centres de décision mondiaux. Certaines sont même regroupées comme au nord-est, sur la façade Atlantique: c'est **la Mégalopolis** de Boston à Richmond.

(doc.3 p.313) Au cœur de ces villes, les immeubles du **CBD (centre des affaires)** accueillent les sièges sociaux de grandes firmes multinationales, symboles de la mondialisation.



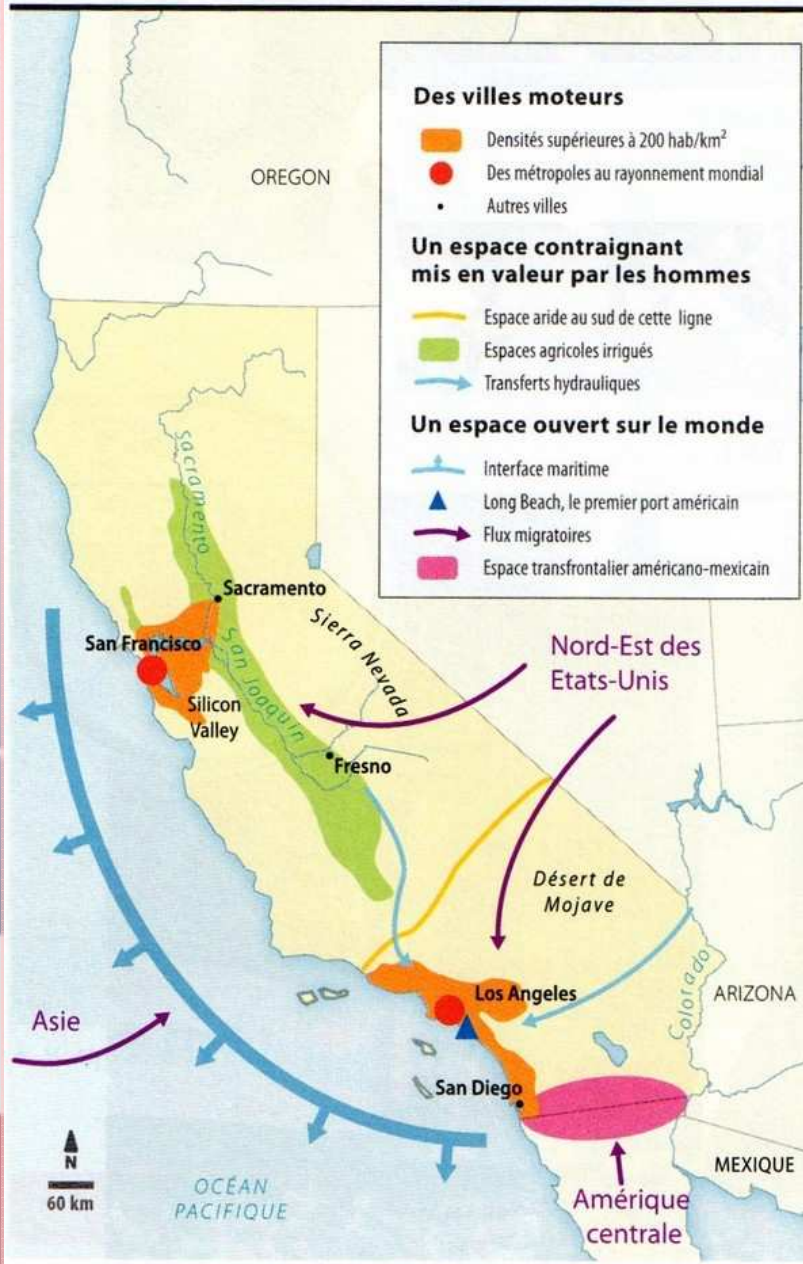
B) Un territoire aménagé et mis en valeur



3 Le cœur de la métropole de Boston.

[Retour vers la carte de la Californie](#)

L'organisation du territoire californien



[Clique sur la légende pour revenir à la carte de départ](#)

Un espace contraignant mis en valeur par les hommes

- Yellow rectangle: Espace aride au sud de cette ligne
- Green rectangle: Espaces agricoles irrigués
- Blue arrow: Transferts hydrauliques

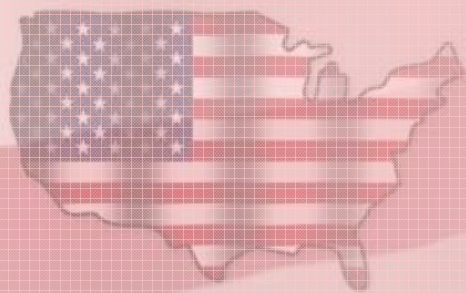
Q 4 : Quelle contrainte naturelle apparaît sur la carte de la Californie ?

Q 5: Comment les Américains se sont-ils adaptés à cette contrainte ?

Q 6 : Que peux-tu en conclure sur la manière dont les Américains gèrent leur territoire ?



Images aérienne de champs irrigués en Californie. Voir aussi le doc.3 p.263

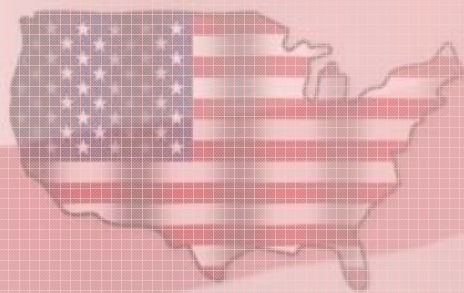


[Clique sur l'image pour revenir à la carte](#)

Quelles régions américaines font partie de la Sun Belt ?

L'agriculture est-elle l'activité principale en Californie ? Justifie ta réponse.

Quels sont les atouts de ces régions pouvant expliquer l'attraction de la population ?

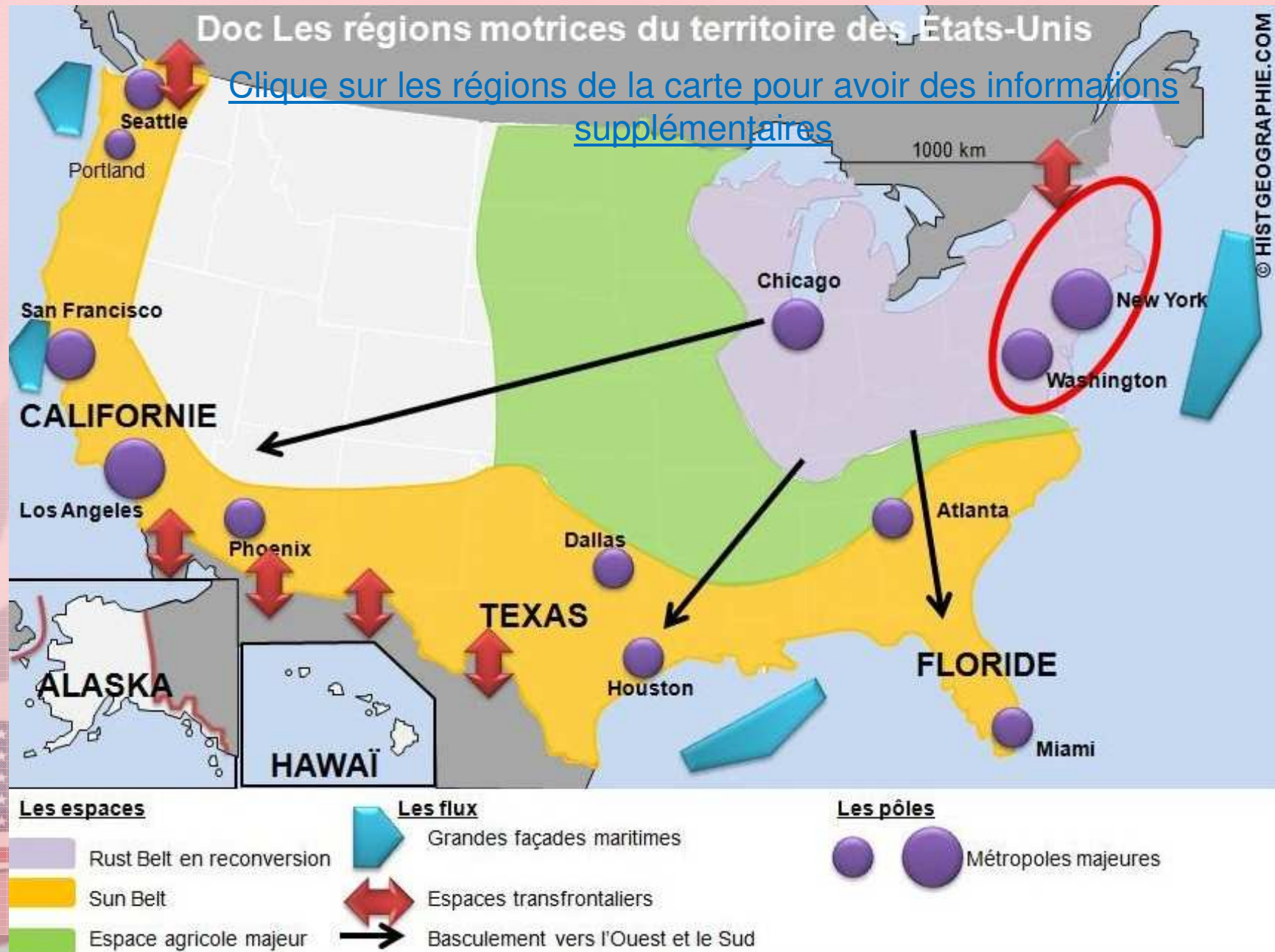


La Sun Belt

« La Sun Belt désigne un croissant périphérique attractif par ses activités de haute technologie. Cette attraction se traduit par une urbanisation galopante dans l'État de Washington, en Californie, au Texas, en Georgie et en Caroline du Nord. Dans cette zone, les métropoles profitent de l'effet Sun Belt fondé sur l'association universités-industries et le développement des médias. La Sun Belt symbolise la région où l'on invente en permanence, à l'image de la Californie et de sa Silicon Valley ou de la région d'Atlanta (boom-town). Enfin la Sun Belt attire par son climat et un cadre de vie agréable. Ainsi la Floride est devenue l'État le plus attractif de l'Union : s'y retrouvent des scientifiques, des retraités arrivant du nord-est, de nombreux immigrants latino-américains ou encore des touristes à la recherche de belles plages. »

D'après M. Goussot, *Les États-Unis*,
La Documentation photographique, 2007.

Généralisons : Quels sont les espaces moteurs du pays ? (Ne pas recopier)




Le Nord-Est

C'est la région la plus peuplée des États-Unis.

Elle comprend :

– la **Megalopolis**, composée de grandes métropoles (Boston; New York, centre décisionnel mondial; Philadelphie; Baltimore et Washington, capitale politique);

– la **région des Grands Lacs**, où se concentrent les activités industrielles traditionnelles. Chicago est un grand centre de décision mondial en matière agricole.



La Sun Belt

Il s'agit d'un vaste ensemble régional, composé d'espaces du Sud et de l'Ouest très attractifs.

La Sun Belt attire une population nombreuse, venue du Nord-Est des États-Unis ou de l'étranger pour travailler dans les **grandes villes spécialisées dans les hautes technologies** (San Francisco, Seattle) ou dans des usines à bas salaires le long de la frontière mexicaine.


La **Floride** (pour le tourisme, autour de Miami), le **Texas** (pour le pétrole, autour de Dallas et Houston), la **Californie** (autour de Los Angeles, grand centre culturel mondial) et la Pugetopolis sont les espaces moteurs de cet ensemble.

L'intérieur du pays

L'intérieur du pays est peu peuplé.

Les **Grandes Plaines** sont le « grenier à blé des États-Unis ».

Les **montagnes Rocheuses** et l'**Alaska** sont des espaces exploités pour leurs ressources naturelles ou leur potentiel touristique mais demeurent des espaces en réserve.

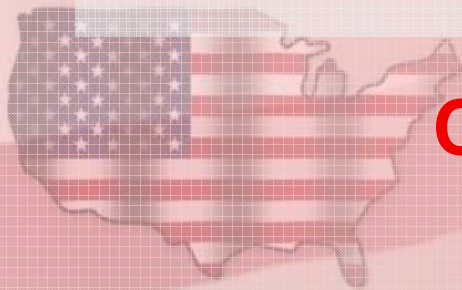


Trace écrite du B) à recopier.

Aux Etats-Unis, 2 grandes espaces régionaux sont des espaces moteurs:

- Le nord-est avec la Mégalopolis est un centre de décision important. C'est une région riche et très peuplée.
- La Sun Belt où la population et les activités se concentrent dans les grandes villes.

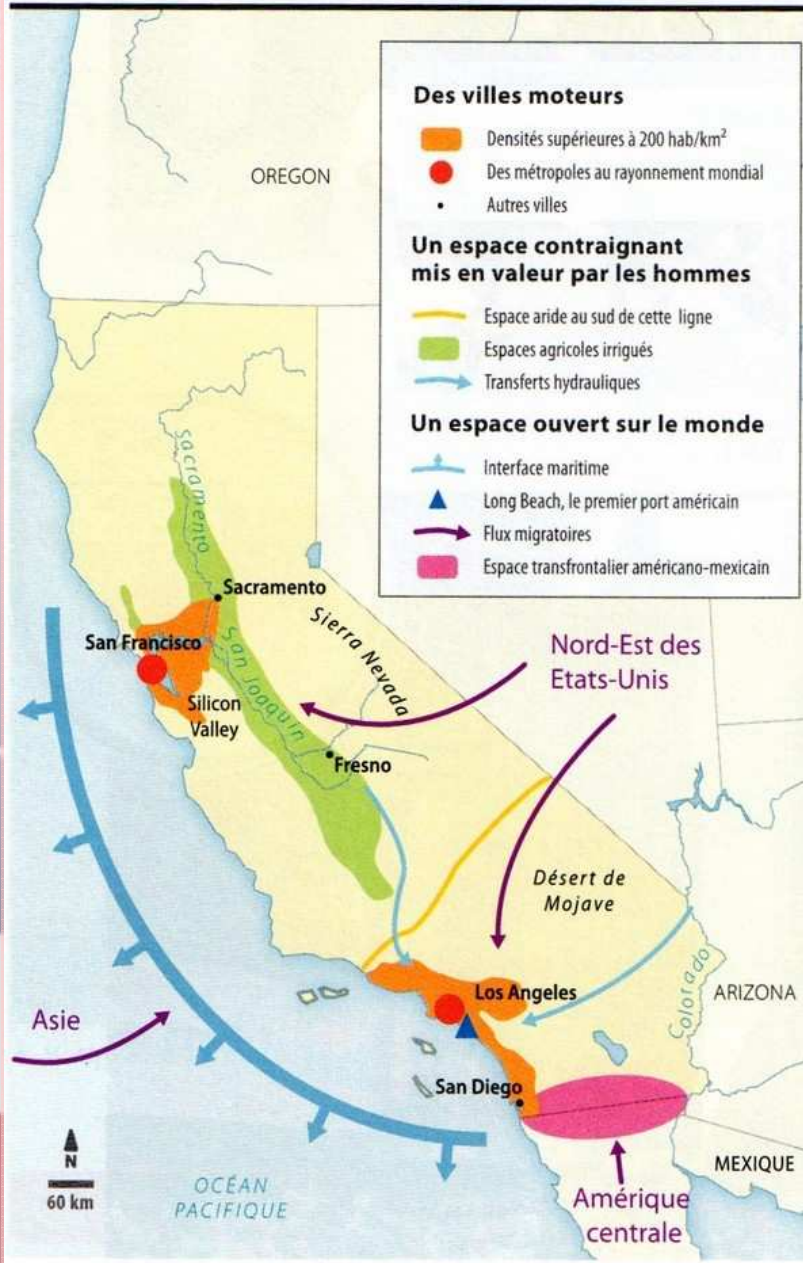
A l'intérieur du pays, on retrouve des espaces moins peuplés (les montagnes Rocheuses) mais parfois très actifs (Grandes Plaines = grandes régions agricoles).



C) Une puissance ouverte sur le monde.

[Retour vers la carte de la Californie](#)

L'organisation du territoire californien



Clique sur la légende pour revenir à la carte de départ

Un espace ouvert sur le monde

- Interface maritime
- Long Beach, le premier port américain
- Flux migratoires
- Espace transfrontalier américano-mexicain

Q 6 : Vers quel océan la Californie s'ouvre-t-elle ?

Q 7 : Quel élément prouve que cette façade maritime est active ? Vers quel continent est-elle tournée ?

Q 8 : Les flux concernant la Californie sont-ils seulement maritimes ? Justifie ta réponse.

Généralisons... Quels éléments montrent l'intégration au monde ?

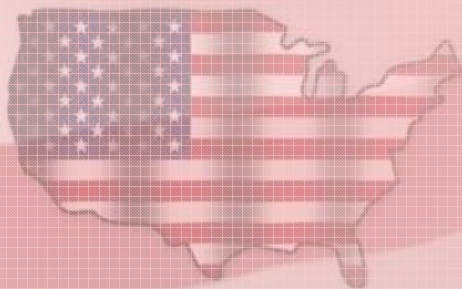


Les façades maritimes et les transports intérieurs

Trace écrite du C) à recopier

Le territoire américain est ouvert sur 2 façades maritimes qui ont été aménagées pour attirer des hommes et des activités sur le littoral: on parle de **littoralisation**. Ces régions littorales Pacifique et Atlantique jouent un rôle majeur dans la mondialisation.

Des échanges importants se font aussi avec les pays voisins (Canada et Mexique).



- Utilise maintenant le II. de ce chapitre pour réaliser le croquis de l'organisation des Etats-Unis (livre p.319) :
 - attention au choix des figurés !
 - complète ton croquis le plus soigneusement possible.

